



Региональный этап Всероссийской олимпиады профессионального мастерства обучающихся по специальностям среднего профессионального образования УГС 54.00.00 ИЗОБРАЗИТЕЛЬНЫЕ И ПРИКЛАДНЫЕ ВИДЫ ИСКУССТВ

Утверждено протоколом заседания рабочей группы по укрупненным группам специальностей и направлениям подготовки 54.00.00 Изобразительное и прикладные виды искусств от 27.01.2020 № 1

БАНК ЗАДАНИЙ
Регионального этапа Всероссийской олимпиады
профессионального мастерства
по укрупненной группе специальностей СПО
54.00.00 Изобразительное и прикладные виды искусств

Королев
2020

ФОС разработан: Храмцова Е.П., Березовская Л.Н., Губер М.Л., Ноздрякова Е.В., Семенцова Т.П., Сильчева Л.В., Самолдин В.А., Щедрина В.А., Лупоносова Н.В., Тинькова О.В., Глазкова З.Ю., Мышляева О.Б.

Рецензенты

- 1. Ведущий художник-дизайнер Государственного Дарвиновского музея Литвинова Людмила Викторовна**
- 2. Начальник рекламно-информационного отдела ООО «Меркурий» Юдичева Алена Юрьевна**
- 3. Директор Щелковской художественной школы Рыбалко Елена Александровна**

Оценочные средства
Задания I уровня
Задание 1. «Тестирование»

Информационные технологии в профессиональной деятельности

1. Установите соответствие

1. САПР для швейной промышленности	А. САПР «Catia»
2. САПР для авиастроения	Б. САПР «OnShape»
3. Облачная САПР только для on-line режима	В. САПР «Fusion 360»
4. Облачная САПР для режимов on-line и off-line	Г. САПР «Morgan»

Запишите ответ:

1	2	3	4

2. Установите соответствие

1. САПР базового уровня	А. САПР «Bricscad»
2. САПР среднего уровня	Б. САПР «OnShape»
3. Облачная САПР	В. САПР «T-Flex»
4. «Тяжелая» САПР	Г. САПР «PTC «Creo»

Запишите ответ:

1	2	3	4

3. Установите соответствие

1. САПР Россия, Санкт-Петербург	А. САПР «LECO»
2. Франция	Б. САПР «Lectra»
3. Италия	В. САПР «Assyst»
4. Германия	Г. САПР «Morgan»

Запишите ответ:

1	2	3	4

4. Установите соответствие

1. Микропроцессорная память	А. Внешнее запоминающее устройство для долговременного хранения информации
2. Постоянное запоминающее устройство	Б. Предназначено для хранения информации (программ и данных), непосредственно

	участвующей в вычислительном процессе.
3. Оперативное запоминающее устройство	В. Служит для кратковременного хранения, записи и выдачи информации, непосредственно используемой в вычислениях в ближайшие такты работы компьютера.
4. Накопитель на жестком магнитном диске	Г. Энергонезависимое запоминающее устройство, из которого можно только считывать информацию.

Запишите ответ:

1	2	3	4

5. Установите соответствие

1. HSL	А. Красный, синий, зеленый.
2. CMYK	Б. Пурпурный, голубой, желтый.
3. Lab	В. Светлота цвета, тон цвета и насыщенность.
4. RGB	Г. освещенность , один из компонентов цвета, меняющийся от зеленого до красного, второй из компонентов цвета, меняющийся от синего до желтого.
5. HSB	Д. Оттенок цвета, яркость и насыщенность цвета.

Запишите ответ:

1	2	3	4

6. Установите соответствие

1. Кодовая шина данных	А. Для передачи инструкций во все блоки компьютера
2. Кодовая шина адреса	Б. Для передачи машинного слова операнда
3. Кодовая шина управления	В. Для передачи всех разрядов кода адреса ячейки основной памяти или порта ввода-вывода
4. Кодовая шина питания	Г. Для подключения блоков ПК к системе энергопитания

Запишите ответ:

1	2	3	4

7. Установите соответствие

1. Твердочернильный принтер	А. Невозможность распечатывания текстовых документов, отличное качество фотопечати, удобство использования
2. Сублимационный принтер	Б. Безупречное качество печати, очень большая цена принтера, очень низкая стоимость печати
3. Светодиодный принтер	В. Достаточно высокая стоимость самих принтеров, высокая скорость печати, низкая стоимость отпечатков.
4. Лазерный принтер	Г. Безвредная технология, низкая стоимость печати и самих принтеров.

Запишите ответ:

1	2	3	4

8. Выберите правильный вариант ответа:

Какова длина ячеек регистровой памяти?

- А. 1 байт
- Б. 8 байт
- В. 1 бит
- Г. В регистровой памяти ячейки различной длины

9. Выберите правильный вариант ответа:

Какова длина ячеек оперативной памяти?

- А. 1 байт
- Б. 8 байт
- В. 1 бит
- Г. В оперативной памяти ячейки различной длины

10. К какому виду устройств относится плоттер (графопостроитель):

Ответы:

- а) устройства ввода информации
- б) устройства вывода информации
- в) многофункциональные устройства
- г) драйверы

11. С какого вида запоминающих устройств нельзя удалить информацию:

- а) оперативная память
- б) накопители на жестких магнитных дисках
- в) постоянное запоминающее устройство
- г) flash-память.

12. Какое из этих видов запоминающих устройств не предназначено для записи информации:

- А. Оперативная память
- Б. Накопители на жестких магнитных дисках
- В. Постоянное запоминающее устройство
- Г. Flash-память.

13. Какое устройство не относится к манипуляторам:

- А. Мышь

- Б. Световое перо
- В. Клавиатура
- Г. Трекбол

14. Агрегированность информации – это

- А. Степень укрупнения или детализации информации
- Б. Значимость информации на текущий период времени
- В. Свойство информации, характеризующее степень нанесения ею вреда
- Г. Свойство информации, характеризующее иерархию информации.

15. *Вставьте пропущенное слово (одно слово):*

В полиграфии используется система смещения, голубого и желтого цветов.

16. *Вставьте пропущенное слово (одно слово):*

В самой распространенной у web-дизайнеров модели представления цвета любой цвет базируется на основе трёх базовых: синего, красного и

17. *Вставьте пропущенное слово (одно слово):*

..... плоттеры пишущий узел перемещают относительно бумаги сразу по вертикали и горизонтали, вычерчивая на бумаге непрерывные кривые в любом направлении.

18. *Вставьте пропущенное слово (одно слово):*

..... плоттеры пишущий узел перемещают относительно бумаги только в одном направлении, и изображение формируется строка за строкой из последовательности точек.

19. *Вставьте пропущенное слово (одно слово):*

..... плоттеры используют для рисования узел, который называется пером. В качестве пера используются перья с чернилами, фибровые и пластиковые стержни (фломастеры), карандашные грифели и мелки или шариковые узлы однократного и многократного действия.

20. *Вставьте пропущенное слово (одно слово):*

В плоттерах наносится невидимое изображение (потенциальный рельеф) на специальную бумагу, а после к заряженным частицам носителя прилипает жидкая краска.

21. *Вставьте пропущенное слово (одно слово):*

Кодовая шина – это часть системной шины, содержащая провода и схемы сопряжения для параллельной передачи числового кода операнда.

22. Укажите корректную *последовательность* этапов проектной ступени дизайн-проектирования:

- А) Подбор и анализ аналогов.
- Б) Создание функциональной схемы объекта проектирования.
- Г) Выбор оптимального варианта проектного решения через анализ композиционного решения целостности формы, единства и характера всех ее элементов, соответствия формы содержанию.
- Д) Общее заключение по объекту, включающее его критику, оценку.
- Е) Разработка композиционно-пластических решений.

23. Укажите корректную *последовательность* этапов предпроектной части дизайн-проектирования:

- А) Выявление проблемы, состоящее в анализе противоречий, определении разного рода несоответствий и пр.
- Б) Анализ проектной ситуации, позволяющий четко определить объект проектирования.
- В) Определение потребителя.
- Г) Разработка дизайн-концепции.

Д) Поиск приемов, методов.

24. Укажите корректную последовательность *этапов развития технических средств*:

- А) Интернет, Интранет
- Б) Телеграф
- В) Беспроводные сети
- Г) ЭВМ 1-го и 2-го поколения
- Д) Персональные компьютеры, локальные сети
- Е) ЭВМ 3-его поколения, глобальные сети

25. Укажите корректную последовательность *этапов развития информационных технологий*:

- А) Визуализация приложений
- Б) Формализация знаний
- В) Программирование
- Г) Тиражирование знаний
- Д) Информатизация общества
- Е) Преобразование материальных объектов в информационные образы
- Ж) Операционные системы, системы программирования, пакеты прикладных программ

26. Расположите следующие САПР для промышленного дизайна в порядке возрастания сложности создаваемых в них объектов:

- А) CATIA
- Б) Brixcad
- В) Autodesk Inventor
- Г) NX

27. Укажите корректную *последовательность* создания сцены в программе 3DS MAX:

- А) назначение материалов
- Б) моделирование
- В) создание анимации
- Г) установка камер и источников света

28. Установите соответствие

1. Микропроцессорная память	А. Внешнее запоминающее устройство для долговременного хранения информации
2. Постоянное запоминающее устройство	Б. Предназначено для хранения информации (программ и данных), непосредственно участвующей в вычислительном процессе.
3. Оперативное запоминающее устройство	В. Служит для кратковременного хранения, записи и выдачи информации, непосредственно используемой в вычислениях в ближайшие такты работы компьютера.
4. Накопитель на жестком магнитном диске	Г. Энергонезависимое запоминающее устройство, из которого можно только считывать информацию.

Запишите ответ:

1	2	3	4

29. Выберите правильный вариант ответа:

Какова длина ячеек оперативной памяти?

- А. 1 байт
- Б. 8 байт
- В. 1 бит
- Г. В оперативной памяти ячейки различной длины

Ответ:

30. Вставьте пропущенное слово (одно слово):

В самой распространенной у web-дизайнеров модели представления цвета любой цвет базируется на основе трёх базовых: синего, красного и

31. Укажите корректную последовательность этапов проектной ступени дизайн-проектирования:

- А) Подбор и анализ аналогов.
- Б) Создание функциональной схемы объекта проектирования.
- Г) Выбор оптимального варианта проектного решения через анализ композиционного решения целостности формы, единства и характера всех ее элементов, соответствия формы содержанию.
- Д) Общее заключение по объекту, включающее его критику, оценку.
- Е) Разработка композиционно-пластических решений.

Системы качества, стандартизации, сертификации

1. Выберите один вариант правильного ответа:

Процедура, посредством которой третья сторона дает письменную гарантию, что услуга соответствует заданным требованиям.

- 1. Стандартизация
- 2. Унификация
- 3. Сертификация
- 4. Контроль качества

2. Вставьте пропущенное слово:

Необходимым условием, определяющим правильность составления размерной цепи является _____.

3. Расположите приставки к единицам измерения в возрастающей последовательности:

- 1. Пета.
- 2. Дека.
- 3. Экса.
- 4. Гига.

4. Установите соответствие между измерительным прибором и его назначением.

1	Универсальный угломер УГ-2	А.	Измерение сопротивления изоляции обмоток электродвигателей, трансформаторов
2	Индикаторный глубиномер	Б.	Измерение линейных размеров с точностью до 0,1мм.
3	Мегометр	В.	Измерение наружных углов от 0-320градусов

4	Штангенциркуль ШЦ-1	Г.	Измерение глубин пазов, отверстий. Высот выступов
---	---------------------	----	---

1 ___; 2 ___; 3 ___; 4 ___;

5. Процедура, посредством которой третья сторона дает письменную гарантию, что услуга соответствует заданным требованиям.

1. Стандартизация
2. Унификация
3. Сертификация
4. Контроль качества

6. Вставьте пропущенное слово: Необходимым условием, определяющим правильность составления размерной цепи является _____.

7. Расположите приставки к единицам измерения в возрастающей последовательности:

1. Пета.
2. Дека.
3. Экса.
4. Гига.

8. Установите соответствие между измерительным прибором и его назначением.

- | | | | |
|---|----------------------------|----|---|
| 1 | Универсальный угломер УГ-2 | А. | Измерение сопротивления изоляции обмоток электродвигателей, трансформаторов |
| 2 | Индикаторный глубиномер | Б. | Измерение линейных размеров с точностью до 0,1мм. |
| 3 | Мегометр | В. | Измерение наружных углов от 0-320градусов |
| 4 | Штангенциркуль ШЦ-1 | Г. | Измерение глубин пазов, отверстий. Высот выступов |

1 ___; 2 ___; 3 ___; 4 ___;

9. Метод стандартизации, который применяется для установления рациональной номенклатуры изготавливаемых изделий с целью унификации, повышения серийности и развития специализации их производства

1. Типизация
2. Систематизация
3. Агрегатирование
4. Симплификация

10. Вставьте пропущенное слово: Шероховатость поверхности наряду с точностью формы, являются одной из основных _____ характеристик её качества.

11. Расположите этапы сертификации продукции в последовательности их выполнения.

1. принятие решения и оформление сертификата
2. Осуществление контроля за сертификацией и сопроводительной документацией
3. Подача заявки и регистрация заявки
4. Выбор испытательной лаборатории, отбор образцов и испытания, подписание договора

12. Установите соответствие между величиной и единицами измерения.

- | | | | |
|---|-------|----|---------|
| 1 | Ампер | А. | Объём |
| 2 | Кг/м | Б. | Частота |

- 3 Герц В. Сила тока
 4 Литр Г. Плотность
 1 ___; 2 ___; 3 ___; 4 ___;

13. Средства измерений, которые выпускаются в промышленности, подвергаются

1. Типизации
2. Стандартизации
3. Сертификации
4. Калибровке

14. Вставьте пропущенное слово: Средняя квадратическая погрешность — характеристика _____ одной и той же величины вследствие влияния случайных погрешностей

15. Расположите виды обработки по уменьшению шероховатости.

1. Протягивание.
2. Строгание.
3. Анодно-механическая обработка.
4. Хонингование.

16. Установите соответствие размерных цепей.

- | | | | |
|---|------------------|----|---|
| 1 | Линейная | А. | Звенья цепи расположены в непараллельных плоскостях. |
| 2 | Пространственная | Б. | Выполняется последней при изготовлении детали или сборки узла. |
| 3 | Плоскостная | В. | Состоит из линейных параллельных между собой размеров. |
| 4 | Замыкающее звено | Г. | Звенья цепи расположены в одной или нескольких параллельных плоскостях. |
- 1 ___; 2 ___; 3 ___; 4 ___;

17. Получение информации о размере физической или нефизической величины

1. Контроль
2. Методика измерения
3. Измерение
4. Калибровка

18. Вставьте пропущенное слово: _____ измерений — это повторяемость результатов измерений одной и той же величины, полученных в разных местах, разными методами, разными операторами, в разное время, но приведенных к одним и тем же условиям измерений (температуре, давлению, влажности и др.) .

19. Разместите трубные резьбы в порядке возрастания диаметра.

1. 3/4"
2. 1/4"
3. 1/2"
4. 3/8"

20. Определите соответствие видов взаимозаменяемости их определениям.

1	По геометрическим параметрам.	А.	Определяется точностью размеров деталей входящих в сборочные единицы узлов и агрегатов
2	Функциональная	Б.	Обеспечивается размерами и формой, взаимным расположением поверхностей узлов и агрегатов, и их основными эксплуатационными показателями.

3	Внутренняя	В.	Предполагает взаимозаменяемость по размерам, форме, взаимным расположением поверхностей и осей деталей и шероховатости поверхности.
4	Внешняя	Г.	Деталь занимает своё место без дополнительных операций подгонки, регулировки и выполняет свои функции в соответствии с техническими условиями.

1 ___; 2 ___; 3 ___; 4 ___;

21. Какая из форм, относящихся к менеджменту, появилась раньше всех

1. Принципы Деминга;
2. Система Тейлора;
3. Теория надежности;
4. Петли качества;

22. Вставьте пропущенное слово: Расстояние по линии параллельной к оси резьбы между средними точками ближайших одноимённых боковых сторон профиля резьбы которые лежат в одной осевой плоскости, по одну сторону оси резьбы, считается _____ резьбы.

23. Расположите исторические события в развитии метрологии как науки в том порядке в каком они состоялись.

1. Создание комиссии весов и мер под председательством главного директора Монетного двора графа М. Т. Головкина.
2. Генеральная конференция по мерам и весам приняла новую систему единиц, присвоив ей наименование «Международная система единиц»
3. Принята «Двинская грамота» Ивана Грозного.
4. Основание Петербургской академии наук.

24. Определите соответствие вида стандарта его условному обозначению

- | | | | |
|---|----------------------------------|----|-----------|
| 1 | Национальные стандарты РФ | А. | СТО |
| 2 | Стандарты организаций | Б. | ISO (ИСО) |
| 3 | Международные стандарты | В. | ГОСТ Р |
| 4 | Межгосударственные стандарты СНГ | Г. | ГОСТ |

1 ___; 2 ___; 3 ___; 4 ___;

25. Получение информации о размере физической или нефизической величины

1. Контроль
2. Методика измерения
3. Измерение
4. Калибровка

26. Вставьте пропущенное слово: Доверительная погрешность — верхняя и нижняя границы _____ при данной доверительной вероятности.

27. Расположите этапы обработки результатов измерений в последовательности их выполнения.

1. Вычисление значений измеряемой величины
2. Оценка ошибок контроля качества
3. Оценивание погрешности однократных измерений и испытаний
4. Измерения продукции в системе оценки качества продукции

28. Установите соответствие между величинами единиц СИ и их международными обозначениями:

- | | | | |
|---|-------------------------------|----|-----|
| 1 | Термодинамическая температура | А. | сг |
| 2 | Сила света | Б. | mol |
| 3 | Телесный угол | В. | К |
| 4 | Количество вещества | Г. | cd |
- 1 ____; 2 ____; 3 ____; 4 ____;

29. Международные стандарты соотносятся к:

1. Корпоративными стандартами;
2. Национальными стандартами;
3. Стандартами организаций;
4. Директивам ISO/IEC;

30. Вставьте пропущенное слово: _____ - средство измерения, предназначенное для воспроизведения и хранения единицы величины с целью передачи ее другим средствам измерений данной величины

31. Расположите порядок выполнения работ в сфере стандартизации:

1. Выделение основной информации
2. Систематизация информации
3. Анализ информации
4. Определение характерных признаков

32. Установите соответствие между определениями методов стандартизации:

1	Классификация	А.	Выбор оптимального числа разновидностей продукции, процессов и услуг, значений их параметров и размеров
2	Унификация	Б.	Распределение предметов исследования в определенном порядке или последовательности, позволяющее удобно использовать данную информацию
3	<i>Систематизация</i>	В.	Явления, понятия, предметы или размеры располагаются по определенным, наиболее характерным для группы изделий одного назначения признакам
4	Типизация	Г.	Разработка и установление типовых значений конструкций, общих для изделий сборочных единиц и деталей

1 ____; 2 ____; 3 ____; 4 ____;

33. Декларация соответствия относится к

1. необязательной форме подтверждения соответствия;
2. добровольной форме подтверждения соответствия;
3. инициативной форме подтверждения соответствия;
4. обязательной форме подтверждения соответствия;

34. Вставьте пропущенное слово: Характеристика качества измерений, отражающая близость друг к другу результатов измерений одной и той же величины, выполненных повторно одними и теми же средствами, одним и тем же методом, в одинаковых условиях и с одинаковой тщательностью, называется _____ измерений.

35. Укажите этапы подтверждения обязательного соответствия продукции при ее декларировании:

1. Декларация о соответствии
2. Декларирование на соответствие нормативной документации
3. Знак соответствия при декларировании
4. Декларирование соответствия

36. Установите соответствие между знаками организаций по стандартизации:

1		А. Международная организация по стандартизации
2		Б. Международная электротехническая комиссия
3		В. Европейский комитет по стандартизации
4		Г. Институт инженеров электротехники и электроники

1 ____; 2 ____; 3 ____; 4 ____;

37. Какой технический комитет занимается разработкой стандартов серии ISO 9000


1. ИСО 276;
2. ИСО 275;
3. ИСО 176;
4. ИСО 175;




38. Вставьте пропущенное слово: Точность может быть выражена обратной величиной _____ погрешности.

39. Укажите последовательность сертификации работ и услуг:

1. Оценка организации
2. Оценка системы качества
3. Оценка мастерства исполнения работ и услуг
4. Анализ состояния производства

40. Установите соответствие между знаками при стандартизации и сертификации:

1		А. Знак соответствия при декларировании
---	---	---

2		Б. Знак обращения на рынке
3		В. Знак соответствия при обязательной сертификации
4		Г. Знак соответствия при добровольной сертификации

1 ____; 2 ____; 3 ____; 4 ____;

Охрана труда, безопасность жизнедеятельности, безопасность окружающей среды (охрана окружающей среды, «зеленые технологии»)

1. Найдите правильное определение понятия «Охрана труда»:

Ответы:

а) охрана труда - состояние защищенности жизненно важных интересов личности и общества от аварий

б) охрана труда - система сохранения жизни и здоровья работников в процессе трудовой деятельности, включающая правовые, социально - экономические, организационные, технические, санитарно - гигиенические и иные мероприятия

в) охрана труда - система сохранения здоровья работников в процессе трудовой деятельности, включающая в себя правовые, социально - экономические, организационно - технические, санитарно - гигиенические и иные мероприятия

г) охрана труда - направлена на создание и поддержание организационной структуры и обеспечение ресурсами системы управления, обеспечивающей безопасность трудовой деятельности

2. Чрезвычайная ситуация – это _____ на определенной территории, сложившаяся в результате аварии, опасного природного явления, катастрофы, стихийного или иного бедствия, которые могут повлечь или повлекли человеческие жертвы и т.д.

3. Установите соответствие между видом инструктажа по охране труда и временем его проведения:

1	Вводный инструктаж	А	Перед первым допуском к работе
2	Первичный инструктаж	Б	Не реже одного раза в полгода
3	Повторный инструктаж	В	При выполнении разовых работ, не связанных с прямыми обязанностями по специальности
4	Целевой инструктаж	Г	При поступлении на работу

Запишите ответ:

1	2	3	4

4. Укажите последовательность действий по оказанию первой помощи пострадавшему при поражении электрическим током:

- а). Убедиться в отсутствии пульса на сонной артерии и реакции зрачков на свет
- б). Оттащить пострадавшего на безопасное расстояние
- в). Приступить к реанимационным мероприятиям
- г). Обесточить пострадавшего

5. Трудовой договор заключается с работником в письменной форме. Прием на работу оформляется приказом и объявляется работнику в трехдневный срок со дня подписания трудового договора. Соответствует ли это закону?

Ответы:

- а) если договор с работником заключается на определенный срок (срочный трудовой договор), то допускается заключение его в устной форме
- б) да, соответствует
- в) знакомить работника с приказом не обязательно
- г) нет, если трудовой договор заключается в письменном виде, составление приказа необязательно

6. Гражданская оборона- это система _____ по подготовке и защите населения, материальных и культурных ценностей на территории РФ от опасностей, возникающих при ведении военных действий или вследствие этих действий.

7. Установите соответствие между видом ответственности за нарушение законодательных и правовых нормативных актов по безопасности труда и условиями ее наступления:

1	Дисциплинарная	А	Взыскание материального ущерба с виновного должностного лица
2	Административная	Б	Увольнение с должности с лишением права занимать определенные должности на срок до пяти лет
3	Материальная	В	Наложение штрафа на виновное должностное лицо
4	Уголовная	Г	Замечание, выговор, увольнение

Запишите ответ:

1	2	3	4

8. Укажите порядок оказания первой помощи при артериальном кровотечении:

- а). полностью накрыть рану чистой салфеткой;
- б). записать время наложения жгута;
- в). наложить кровоостанавливающий жгут;
- г). приподнять конечность и прижать артерию пальцем или кулаком;

9. Должны ли в организациях создаваться комитеты (комиссии) по охране труда?

Ответы:

- а) комитеты (комиссии) по охране труда создаются по требованию государственной инспекции труда
- б) комитеты (комиссии) по охране труда создаются по инициативе государственной экспертизы условий труда
- в) комитеты (комиссии) по охране труда создаются в организациях по инициативе работодателя или работников

г) комитеты (комиссии) по охране труда создаются при согласии работодателя

10. При воздействии на тело человека повышенной температуры в условиях повышенной влажности, обезвоживания и нарушения процесса терморегуляции организма возникает _____.

11. Сопоставьте виды производственных травм в зависимости от вида травмирующего фактора:

1	Баротравмы	А	Вызваны ожогами и обморожениями
2	Электротравмы	Б	Вызваны быстрым изменением атмосферного воздуха
3	Психические	В	Вызваны воздействием электрического тока
4	Термические	Г	Вызваны тяжелыми психологическими потрясениями

Запишите ответ:

1	2	3	4

12. Укажите последовательность действий в универсальной схеме оказания первой помощи на месте происшествия:

- При наличии ран – наложить повязки
- Если есть признаки переломов костей конечностей – наложить транспортные шины
- Если нет сознания и нет пульса на сонной артерии – приступить к реанимации
- Если нет сознания, но есть пульс на сонной артерии – повернуть на живот и очистить ротовую полость
- При артериальном кровотечении – наложить жгут

13. Какой документ составляется при произошедшем несчастном случае на производстве:

Ответы:

- актом по форме Н-1
- актом по форме Н-2
- актом в произвольной форме
- нет правильного ответа

14. Пожар - это неконтролируемое _____, причиняющее материальный ущерб, вред жизни и здоровью граждан, интересам общества и государства.

15. Сопоставьте классы вредных химических веществ в зависимости от характера биологического воздействия на организм человека:

1	Канцерогенные	А	Вызывают отравление всего организма или отдельных его систем
2	Мутагенные	Б	Действуют как аллергены
3	Общетоксичные	В	Вызывают злокачественные образования
4	Сенсибилизирующие	Г	Приводят к нарушению генетического кода клетки

Запишите ответ:

1	2	3	4

16. Укажите правильный порядок применения порошкового огнетушителя:

- а). Выдернуть чеку
- б). Сорвать пломбу
- в). Поднести огнетушитель к очагу горения
- г). Нажать на верхнюю ручку запорно-пускового устройства
- д). Направить сопло или шланг-раструб на очаг горения

17. Вредный производственный фактор – это:

Ответы:

- а) фактор, воздействие которого на работающего приводит к травме
- б) фактор, воздействие которого на работающего приводит к профзаболеванию (в ТК просто к заболеванию)
- в) фактор химической и биологической природы
- г) понятие отменено ФЗ «Об основах охраны труда в РФ»

18. Техносфера - это часть экосферы, которая содержит искусственные технические средства, которые изготавливаются и используются _____.

19. Установите правильную характеристику условий труда работников:

1	Вредные	А	Условия труда, при которых на работника не воздействуют опасные и вредные производственные факторы
2	Опасные	Б	Условия труда, при которых на работника воздействуют вредные производственные факторы, в пределах предельно-допустимых уровней
3	Оптимальные	В	Условия труда, при которых уровни воздействия вредных и опасных производственных факторов превышают ПДУ
4	Допустимые	Г	Условия труда, при которых на работника воздействуют вредные и опасные производственные факторы, которые в течение рабочего дня представляют угрозу жизни работника

Запишите ответ:

1	2	3	4

20. Укажите правильную последовательность оказания первой помощи пострадавшему работнику на производстве:

- а). Удалить пострадавшего из опасной зоны;
- б). Оценить обстановку и прекратить действие повреждающего фактора;
- в). Выявить признаки жизни и смерти;
- г). Оказать первую доврачебную помощь;
- д). Вызвать скорую медицинскую помощь.

21. Рабочее место - это:

Ответы:

- а) место, где человек производит свою работу
- б) место, где работник должен находиться или куда ему следует прибыть в связи с его работой и которое прямо или косвенно находится под контролем работодателя
- в) место, где располагаются рабочий инструмент и оборудование, необходимое для выполнения задания

г) место работы, закрепленное должностной инструкцией

22. При разрушении энергосберегающих ламп выделяются опасные для здоровья пары _____.

23. Установите соответствие между типом отравляющего вещества и признаками его применения:

1	Нервно-паралитического действия	А	Галлюцинации, страх, подавленность, слепота, глухота
2	Кожно-нарывного действия	Б	Острое жжение и боль во рту, горле, глазах, слезотечение, кашель
3	Удушающего действия	В	Металлический привкус во рту, слабость головокружение, резкие судороги, паралич
4	Общеядовитого действия	Г	Покраснение кожи, образование мелких пузырей, жжение
5	Раздражающего действия	Д	Сладковатый привкус во рту, кашель, головокружение, общая слабость
6	Психохимического действия	Е	Слюнотечение, сужение зрачков, затруднение дыхания, тошнота, рвота

Запишите ответ:

1	2	3	4	5	6

24. Установите последовательность действий во время оказания первой медицинской помощи при сильном артериальном кровотечении:

- а). Написать записку с указанием даты, часа наложения;
- б). Вызвать скорую помощь;
- в). Наложить кровоостанавливающий жгут;

25. Периодическая проверка знаний у рабочих по охране труда проводится...

Ответы:

- а) не реже одного раза в год по программе, разработанной организацией
- б) раз в полугодие
- в) только после ввода в действие новых нормативных документов, содержащих требования охраны труда
- г) на усмотрение работодателя

26. При производстве работ в условиях повышенной опасности должен быть оформлен _____.

27. Установите соответствие между понятиями и их определениями:

1	Мониторинг окружающей среды	А	Деятельность государственных органов, предприятий и граждан по соблюдению экологических норм и правил
2	Экологический контроль	Б	Система наблюдения, оценки и прогнозирования состояния окружающей человека природной среды
3	Экологическая экспертиза	В	Оценка уровня возможных негативных воздействий намечаемой хозяйственной и иной деятельности на окружающую природную среду, природные ресурсы и здоровье людей

Запишите ответ:

1	2	3

28. Какова последовательность оказания первой помощи в очаге химической аварии:

- а). Обработать кожу жидкостью из индивидуального противохимического пакета (ИПП);
- б). Эвакуировать из зоны поражения;
- в). Защитить органы дыхания и кожу с помощью средств индивидуальной защиты;
- г). Ввести антидот (из индивидуальной аптечки АИ);

29. При какой численности работников законодательство предусматривает обязательное создание службы охраны труда или введение должности специалиста по охране труда в организации?

Ответы:

- а) более 10 человек
- б) более 50 человек
- в) более 100 человек
- г) более 150 человек

30. Предусмотрено проведение следующих видов инструктажа: вводный, первичный и повторный на рабочем месте, _____, целевой

31. Установите соответствие между измеряемым параметром микроклимата и освещения помещения и прибором для его измерения:

1	Температура воздуха в помещении	А	Термометр
2	Уровень влажности воздуха в помещении	Б	Люксметр
3	Освещенность рабочей зоны (световой поток)	В	Гигрометр
4	Температуру, влажность воздуха и др. параметры	Г	Электронный термогигрометр

Запишите ответ:

1	2	3	4

32. Какова последовательность оказания первой помощи в очаге радиационной аварии:

- а). Эвакуировать за пределы аварии;
- б). Провести полную санитарную обработку;
- в). Применить средства индивидуальной защиты;
- г). Купировать первичную реакцию на облучение;

33. Служба охраны труда комплектуется:

Ответы:

- а) специалистами, имеющими высшее образование и стаж работы по профилю производства не менее трех лет
- б) специалистами, которые имеют высшее образование и стаж работы по профилю производства не менее одного года
- в) специалистами, которые имеют высшее образование и стаж работы по профилю производства не менее пяти лет

г) специалистами, которые имеют среднее техническое образование и стаж работы по профилю производства не менее пяти лет

34. Величина отчислений на улучшение условий труда составляет не менее ___ % от суммы затрат на производство продукции

35. Установите соответствие между названиями аварийно химически опасных веществ (АХОВ) с их характеристикой:

1	Хлор	А	Газ с удушливым неприятным запахом, легче воздуха
2	Аммиак	Б	Напоминающим запах гнилых плодов, прелого сена
3	Фосген	В	Серебристый жидкий металл
4	Ртуть	Г	Газ с удушливым неприятным запахом, тяжелее воздуха

Запишите ответ:

1	2	3	4

36. Установить последовательность оказания первой помощи при поражении электрическим током:

- а) укрыть, дать тепло;
- б) отключить электроустановку;
- в) оттянуть человека;
- г) вызвать скорую помощь;
- д) сделать искусственное дыхание;

Экономика и правовое обеспечение профессиональной деятельности

1. Организационно-правовая форма предпринимательства, основанная на обязательном членстве и трудовом участии в его деятельности:

- а. Акционерное общество;
- б. Общество с ограниченной ответственностью;
- в. Производственный кооператив;
- г. Товарищество на вере.

2. Стоимостной метод оценки основных производственных фондов предприятия (организации) осуществляется по:

- а. Полной первоначальной и остаточной стоимости;
- б. Полной первоначальной и полной восстановительной стоимости;
- в. Полной первоначальной, восстановительной, ликвидационной и остаточной стоимости;
- г. Полной восстановительной и ликвидационной стоимости.

3. Себестоимость продукции – это:

- а. Затраты материальных и трудовых ресурсов на производство и реализацию продукции или оказание услуг в денежном выражении;

- б. Количественные затраты материальных и трудовых ресурсов на производство и реализацию продукции или оказание услуг;
 - в. Технологические затраты материальных и трудовых ресурсов на производство и реализацию продукции или оказание услуг;
 - г. Затраты материальных и трудовых ресурсов на производство продукции или оказание услуг в денежном выражении.
4. *Жизнь на грани прожиточного минимума более характерна для.....*
- а. Рыночной экономики;
 - б. Централизованной экономики;
 - в. Традиционной экономики;
 - г. Экономики высокоразвитых стран.
5. *Сдельная расценка - это:*
- а. Сдельный тарифный коэффициент выполняемой работы
 - б. Показатель увеличения размера заработной платы в зависимости от месторасположения предприятия
 - в. Оплата труда за единицу продукции, выполненных работ, оказанных услуг
 - г. Районный коэффициент к заработной плате
6. *Расчет производственной мощности предприятия ведется по:*
- а. Установленному плану выпуска продукции;
 - б. Всему оборудованию независимо от его состояния;
 - в. Численности промышленно-производственного персонала;
 - г. Мощности ведущих цехов предприятия.
7. *К нормируемым оборотным средствам относятся:*
- а. Все оборотные фонды предприятия;
 - б. Все оборотные средства предприятия;
 - в. Оборотные производственные фонды и готовая продукция на складе;
 - г. Средства в расчетах, денежные средства, товары отгруженные, но не оплаченные покупателем
8. *Коммерческими признаются организации:*
- а. Не имеющие статус юридического лица;
 - б. Имеющие самостоятельную смету или баланс;
 - в. Не преследующие цель извлечение прибыли;
 - г. Нацелены на получение прибыли.
9. *Денежное выражение стоимости товара – это*
- а. Цена;
 - б. Себестоимость;
 - в. Износ;
 - г. Амортизация.
10. *Постоянные издержки предприятия – это...*
- а. Минимальные издержки, связанные с изготовлением продукции;
 - б. Предельные издержки предприятия;
 - в. Издержки, связанные с использованием производственных факторов, величина которых не зависит от объема производимой продукции;
 - г. Издержки, связанные с реализацией произведенной продукции.
11. *Рыночное господство одного продавца называется...*

- а. Монополия;
- б. Олигополия;
- в. Олигопсония;
- г. Монопсония.

12. *Что из перечисленного относится к внутренней среде предприятия:*

- а. Потребители продукции;
- б. Средства производства, трудовые ресурсы, информация;
- в. Поставщики ресурсов производства;
- г. Органы власти.

13. *Наиболее точный показатель уровня жизни -*

- а. реальный доход на душу населения;
- б. денежный доход населения;
- в. уровень безработицы;
- г. темпы инфляции.

14. *При покупке хлеба в магазине деньги выполняют функцию ...*

- а. средства обращения;
- б. средства накопления;
- в. средства платежа;
- г. меры стоимости.

15. *По характеру своей деятельности эти цехи изготавливают продукцию, которая определяет профиль и специализацию предприятия:*

- а. основные;
- б. вспомогательные;
- в. подсобные;
- г. побочные.

16. *Рентабельность производства - это ...*

- а. получаемая предприятием прибыль;
- б. отношение прибыли к сумме среднегодовой стоимости основных фондов и оборотных средств;
- в. балансовая прибыль на 1 руб. объема производства;
- г. отношение среднегодовой стоимости основных фондов к численности работающих.

17. *Показатель, характеризующий стоимость конечных товаров и услуг, созданных внутри страны:*

- а. ВВП;
- б. ВНП;
- в. ВОП;
- г. ВДП.

18. *Потерявшие работу из-за спада в экономике попадают в категорию безработных, охваченных...*

- а. циклической безработицей;
- б. фрикционной безработицей;
- в. структурной безработицей;
- г. скрытой безработицей.

19. *Элемент тарифной системы, характеризующий способность работника выполнять работу различной сложности:*

- а. тарифный коэффициент;
- б. тарифный разряд;
- в. тарифная сетка;
- г. тарифная ставка.

20. К активным операциям банка относятся:

- а. операции по размещению банками имеющихся в их распоряжении ресурсов;
- б. операции по привлечению и хранению средств на счетах в банках;
- в. прием вкладов;
- г. получение банком кредитов от Центрального банка.

21. Несостоятельность (банкротство) - признанная арбитражным судом неспособность должника в полном объеме удовлетворить требования

Ответы:

- а) кредиторов по денежным обязательствам,
- б) о выплате выходных пособий и (или) об оплате труда лиц, работающих или работавших по трудовому договору, и (или)
- в) исполнить обязанность по уплате обязательных платежей

22. Совокупность нескольких тарифных разрядов и соответствующих им тарифных коэффициентов - это:

Ответы:

- а) тарифная система
- б) тарифная сетка
- в) тарифная ставка
- г) тарифный справочник

23. Участники (учредители) участвуют в деятельности этой организации личным трудом:

Ответы:

- а) акционерное общество
- б) производственный кооператив
- в) общество с ограниченной ответственностью
- г) товарищество на вере

24. Участники (учредители) этой организации не отвечают по ее обязательствам, неся риск убытков в пределах стоимости внесенных ими вкладов:

Ответы:

- а) общество с ограниченной ответственностью
- б) полное товарищество
- в) товарищество на вере
- г) производственный кооператив

25. Юридическое лицо действующим законодательством определено как:

Ответы:

- а) организация, осуществляющая предпринимательскую деятельность и отвечающая по всем своим обязательствам, принадлежащим ей на праве собственности имуществом, которая может от своего

имени приобретать и осуществлять имущественные и личные неимущественные права, нести обязанности, быть истцом и ответчиком в суде

б) организация, которая имеет в собственности, хозяйственном ведении или оперативном управлении обособленное имущество и отвечает по своим обязательствам этим имуществом, может от своего имени приобретать и осуществлять имущественные и личные неимущественные права, нести обязанности, быть истцом и ответчиком в суде

в) объединение физических лиц, основанное на их имущественном или трудовом участии, которое может от своего имени приобретать и осуществлять имущественные права, нести обязанности, быть истцом и ответчиком в суде

г) организация, осуществляющая предпринимательскую деятельность и отвечающая по всем своим обязательствам, принадлежащим ей на праве собственности имуществом

26. С какого момента прекращается правоспособность юридического лица?

Ответы:

а) с момента принятия учредителями решения о ликвидации юридического лица

б) с момента завершения расчетов со всеми кредиторами и утверждения ликвидационного баланса

в) с момента внесения записи об исключении юридического лица из государственного реестра

г) с момента неспособности удовлетворить требования кредиторов

27. Могут ли некоммерческие организации заниматься предпринимательской деятельностью?

Ответы:

а) нет, не могут, так как это некоммерческие организации

б) да, могут, если право на занятие предпринимательской деятельностью закреплено в учредительных документах некоммерческой организации наряду с основными видами деятельности

в) некоммерческие организации могут осуществлять предпринимательскую деятельность, указанную в их учредительных документах, и если она служит достижению целей, ради которых созданы коммерческие организации, и соответствует этим целям

г) некоммерческие организации не могут осуществлять предпринимательскую деятельность, если она служит достижению целей, ради которых созданы коммерческие организации, и соответствует этим целям

28. Действия субъектов гражданских правоотношений, направленных на установление, изменение или прекращение гражданских прав признаются:

Ответы:

а) сделками

б) залогом

в) решениями

г) заявления

29. При приеме на работу не требуется документ:

Ответы:

а) паспорт

б) свидетельство о рождении

в) трудовая книжка

г) диплом

30. По общему правилу срок испытания при принятии на работу не может превышать:

Ответы:

- а) 20 дней
- б) две недели
- в) в зависимости от сферы деятельности 1-3 месяца
- г) 3 месяца

30. Трудовой договор может прекратиться по инициативе:

Ответы:

- а) собственника, работника, профсоюза
- б) собственника, работника, сотрудников милиции
- в) работника, членов его семьи
- г) профсоюзного органа, начальника отдела кадров

31. Перевод работника на другое предприятие, или перевод на другую должность возможно при:

Ответы:

- а) согласии работника
- б) необходимости рабочего процесса
- в) требовании руководства
- г) строго по решению трудового коллектива

32. При 6-дневной рабочей неделе продолжительность работы не может превышать:

Ответы:

- а) 7 часов
- б) 8 часов
- в) 6 часов
- г) 5 часов

33. Ночным считается рабочее время с:

Ответы:

- а) с 20.00 до 8.00
- б) с 18.00 до 6.00
- в) с 22.00 до 6.00
- г) с 23.00 до 7.00

34. Для каких работников установлена сокращенная продолжительность рабочего времени и составляет 34 часа в неделю:

Ответы:

- а) для учащихся, работающих в летние каникулы в возрасте 14-15 лет
- б) для пенсионеров
- в) для инвалидов
- г) для работников в возрасте с 16-18 лет

35. Какой документ является единственным свидетельством о трудовой деятельности работника.

Ответы:

- а) трудовой договор
- б) трудовая книжка
- в) приказ о приеме на работу
- г) все выше указанные варианты

36. В Какой срок работник обязан предупредить работодателя о расторжении трудового договора (укажите правильный ответ)?

Ответы:

- а) 10 дней
- б) 1 месяц
- в) 2 недели
- г) 1 неделя

37. Прогул — это отсутствие работника на рабочем месте без уважительной причины в течение рабочего дня более:

Ответы:

- а) 2 часов
- б) 3 часов
- в) 4 часов
- г) 5 часов

38. Административное право – это отрасль права, которая регулирует отношения в сфере:

Ответы:

- а) бизнеса
- б) культуры
- в) управления
- г) собственности

39. Что из перечисленного не является административным наказанием

1. Административный арест
2. Административный штраф
3. Предупреждение
4. Обязательные работы

40. Возраст, по достижении которого может наступить административная ответственность, составляет

Ответы:

- а) 21 год
- б) 16 лет
- в) 18 лет
- г) 14 лет

41. Как называется специальное разрешение на осуществление конкретного вида деятельности

Ответы:

- а) сертификат
- б) регистрационное свидетельство

- в) технический регламент
- г) лицензия

42. Для сдельной формы оплаты труда характерна оплата труда в соответствии с:

Ответы:

- а) количеством изготовленной (обработанной) продукции
- б) закреплением рабочих за определенным оборудованием
- в) количеством отработанного времени
- г) должностным окладом

1. _____ - это отношение стоимости основных средств предприятия к среднегодовой численности рабочих.
2. _____ - это стоимость основных фондов, включающая стоимость (цену) приобретенного элемента основных фондов, а также затраты на доставку, монтаж, наладку, ввод в действие.
3. Административная ответственность наступает с ____ лет.
4. _____ - это финансовая несостоятельность организации.
5. _____ - это процесс постепенного переноса стоимости основных фондов на стоимость произведённой продукции.
6. Срок испытания для вновь принятого работника не может превышать ____ месяцев.
7. Срок испытания для вновь принятых руководителей организаций не может превышать ____ месяцев.
8. Прибыль, которая образуется за счет различных видов деятельности предприятия, называется _____.
9. Под _____ предприятия принято понимать его внутреннее строение, которое характеризуется составом подразделений, системой их взаимодействий, взаимозависимости, подчинения и управления.
10. Соглашение двух или нескольких лиц об установлении, изменении или прекращении гражданских прав и обязанностей называется _____.
11. Прекращение деятельности юридического лица без перехода его прав и обязанностей к другим юридическим лицам называется _____.
12. Форма преобразования государственной собственности в частную называется _____.
13. Укажите срок действия дисциплинарного взыскания в соответствии с Трудовым кодексом РФ от 30.12.2001 N 197-ФЗ (ред. от 03.07.2016) (с изм. и доп., вступ. в силу с 01.01.2017). Ответ: _____.
14. _____ - выдаваемое государством разрешение на осуществление определенных видов деятельности.

15. _____ - обязательное для всех работников подчинение правилам поведения, определенным коллективным договорам, соглашениям, локальным нормативным актам, трудовым договорам.

16. Формы организации и оплаты труда предприятия (организации) подразделяются на: _____, повременную и смешанную.

17. Совокупность налогов, сборов и обязательных платежей в законодательно установленном порядке с юридических и физических лиц - это _____ система государства.

18. Работник, ранее занятый ручным трудом, потерял работу из-за инноваций в экономике. Он охвачен _____ безработицей.

19. Чем больше скорость оборота денег, тем _____ их требуется для обращения.

20. Учет хозяйственных процессов и результатов можно организовать с помощью _____ функции цены.

1. Установите соответствие между видом ответственности и мерой наказания:

1	Дисциплинарная	А	Штраф
2	Материальная	Б	Лишение свободы
3	Административная	В	Возмещение ущерба
4	Уголовная	Г	Выговор

Запишите ответ:

1	2	3	4

2. Установите соответствие между видами издержек и их формулировкой:

1	Постоянные	А	Издержки производства в расчете на единицу товара
2	Переменные	Б	Сумма постоянных и переменных издержек
3	Общие	В	Издержки, которые постоянно меняют свои величины в результате деятельности производства
4	Средние	Г	Издержки, которые существуют всегда независимо от деятельности производства

Запишите ответ:

1	2	3	4

--	--	--	--

3. Установите соответствие между терминами и их определениями:

1	Первоначальная стоимость	А	Стоимость основных фондов в момент прекращения их функционирования
2	Восстановительная стоимость	Б	Складывается из цены на оборудование, затрат на транспорт и монтаж
3	Остаточная стоимость	В	Показывает, во сколько обошлось бы создание действующих основных фондов на момент переоценки с учётом морального износа
4	Ликвидационная стоимость	Г	Полная первоначальная стоимость за вычетом износа

Запишите ответ:

1	2	3	4

4. Установите соответствие между видами рабочего времени и их содержанием:

1	Сменный график работы	А	Не может превышать 40 часов в неделю
2	Нормальная продолжительность рабочего времени	Б	Работа производится вне места постоянного жительства
3	Сокращенная продолжительность рабочего времени	В	Работа в течение установленной продолжительности рабочего времени и в соответствии с графиком сменности
4	Режим с вахтовым методом организации работ	Г	Предусмотрена законодательством для определенных категорий работников и является предельной и обязательной для всех предприятий независимо от форм собственности

Запишите ответ:

1	2	3	4

5. Установите соответствие между видами прибыли и ее содержанием:

1	Экономическая прибыль	А	Это частное деление валовой прибыли на объем продаж
2	Бухгалтерская прибыль	Б	Разница между доходами от продаж и учтенными бухгалтерскими издержками
3	Валовая прибыль	В	Разность между доходами от продажи и экономическими издержками, которые объединяют в себе издержки явные и неявные
4	Средняя прибыль	Г	Разность между валовой выручкой и валовыми издержками

Запишите ответ:

1	2	3	4

6. Установите соответствие между наказанием и его смыслом:

1	Конфискация	А	Лишение физического лица права занимать руководящие должности в исполнительном органе управления юридического лица, входить в совет директоров, осуществлять управление юридическим лицом, в том числе в качестве предпринимательской деятельности
2	Дисквалификация	Б	Принудительное безвозмездное обращение в собственность государства вещи, явившейся орудием совершения или предметом административного правонарушения
3	Административный арест	В	Содержание нарушителя в условиях изоляции от общества

Запишите ответ:

1	2	3

7. Установите верное соответствие понятий и их характеристик:

1	Чистая прибыль	А	Отражают расходы, которые необходимо осуществить для создания услуги
2	Издержки	Б	Часть балансовой прибыли предприятия, остающаяся в его распоряжении после уплаты налогов, сборов, отчислений и других

			обязательных платежей в бюджет
3	Балансовая прибыль предприятия	В	Денежное выражение стоимости продукции, товаров, услуг
4	Цена	Г	Сумма прибылей (убытков) предприятия как от реализации продукции, так и доходов (убытков), не связанных с ее производством

Запишите ответ:

1	2	3	4

8. Установите соответствие между термином и отраслью права:

1	Дееспособность	А	Трудовое право
2	Работник	Б	Административное право
3	Предупреждение	В	Предпринимательское право
4	Прибыль	Г	Гражданское право

Запишите ответ:

1	2	3	4

9. Установите соответствие между указанными терминами и их содержанием

1	Экономика	А	Исследует национальное хозяйство как единую систему.
2	Макроэкономика	Б	Наука о том, как люди (и общество в целом), имея ограниченные ресурсы, делают выбор для производства различных видов товара и услуг с целью удовлетворения своих потребностей.
3	Микроэкономика	В	Исследует поведение отдельных экономических агентов и факторы, его определяющие.
4	Мезоэкономика	Г	Рассматривает поведение отдельных подсистем национальной экономики или отраслей народного хозяйства.

Ответ запишите:

1	2	3	4

10. Установите соответствие между названиями организационно-правовых форм предпринимательства и их характеристиками:

1	Производственный кооператив	А	Коммерческая организация, уставный капитал которой разделен на определенное количество долей, каждая из которых выражена ценной бумагой (акцией), удовлетворяющей обязательные права участников общества (акционеров по отношению к обществу)
2	Государственное учреждение	Б	Договорное объединение участников для предпринимательской деятельности
3	Акционерное общество	В	Добровольное объединение граждан на основе членства для совместной хозяйственной деятельности, основанной на их личном участии и объединении его членам индивидуальных взносов
4	Товарищество	Г	Государственное или муниципальное предприятие, не наделенное правом собственности на закрепленное за ним собственником имущество (имущество неделимое и не может быть распределено по долям, частям, вкладам)
5	Унитарное предприятие	Д	Некоммерческая организация, созданная собственником для осуществления управленческих, социально-культурных или иных функций некоммерческого характера и финансируемая им полностью или частично

Запишите ответ:

1	2	3	4	5

11. Установите соответствие между видами налогов:

1	Косвенный	А	НДФЛ
2	Федеральный	Б	Налог на землю
3	Региональный	В	Транспортный налог
4	Местный	Г	НДС

Запишите ответ:

1	2	3	4

12. Установите верное соответствие понятий и их характеристик:

1	Зарботная плата	А	Количество товаров и услуг, которое может купить человек на располагаемый доход в течение определенного периода с поправкой на изменение уровня цен
2	Номинальная зарботная плата	Б	Цена фактора труда
3	Располагаемая зарботная плата (доход)	В	Сумма денег, полученная работником за свой труд
4	Реальная зарботная плата (доход)	Г	Используется на личное потребление и личные сбережения

Запишите ответ:

1	2	3	4

13. Установите соответствие между видом себестоимости и ее определением:

1	Технологическая	А	Все затраты цеха на производство изделия (амортизация, вспомогательные рабочие, вспомогательные материалы, спецодежда, ремонт оборудования, содержание здания цеха, аппарат управления цеха)
2	Производственная	Б	Включает в себя затраты на производство и реализацию продукции (внепроизводственные затраты)
3	Цеховая	В	Включает в себя затраты, которые непосредственно связаны с технологией, изготовлением изделия (прямые затраты) - материалы, труд основных рабочих, энергия
4	Полная	Г	Затраты всех подразделений предприятия, связанные с производством продукции

Запишите ответ:

1	2	3	4

14. Установите соответствие между терминами и их значением:

1	Амортизация основных производственных фондов	А	Затраты на производство и реализацию продукции
---	--	---	--

2	Издержки производства	Б	Плата работнику за труд за использование его рабочей силы
3	Заработная плата	В	Затраты труда на выпуск единицы продукции
4	Расценка	Г	Ежемесячные отчисления от первоначальной стоимости основных средств

Запишите ответ:

1	2	3	4

15. Установите соответствие между ресурсами предприятия и показателями эффективности их использования:

1	Финансовые ресурсы	А	Коэффициент оборачиваемости материальных запасов
2	Основные средства	Б	Рентабельность собственного капитала
3	Трудовые ресурсы	В	Фондоотдача
4	Материальные ресурсы	Г	Производительность труда

Запишите ответ:

1	2	3	4

16. Установите соответствие перечисленных потребностей:

1	Физиологические	А	пища
2	Материальные	Б	оборудование
3	Духовные	В	чтение книг
4	Социальные	Г	общение

Запишите ответ:

1	2	3	4

17. Установите соответствие закона норме, которую он регулирует:

1	Трудовой кодекс	А	Имущественные и неимущественные права
---	-----------------	---	---------------------------------------

2	Гражданский кодекс	Б	Дисциплинарная ответственность
3	Уголовный кодекс	В	Обязательные платежи в бюджет государства
4	Налоговый кодекс	Г	Тяжкий вред здоровью

Запишите ответ:

1	2	3	4

18. Установите соответствие между стадиями процесса воспроизводства и видами деятельности.

1	Производство	А	процесс создания материальных и нематериальных благ
2	Распределение	Б	определение направлений дальнейшего движения продукта
3	Обмен	В	обмен продукта на деньги или другие товары
4	Потребление	Г	использование продукта в процессе удовлетворения потребности

Запишите ответ:

1	2	3	4

19. Укажите соответствие между типами экономических систем и их основными характеристиками:

1	Традиционная экономика	А	строится на обычаях, традициях, привычках
2	Командная экономика	Б	основана на том, что все факторы производства находятся в руках государства
3	Рыночная экономика	В	основана на разнообразии и равноправии форм собственности
4	Смешанная экономика	Г	строится на гибком сочетании рыночной эффективности с государственным регулированием

Запишите ответ:

1	2	3	4

20. Установите соответствие между функциями денег

1	Средство обращения	А	деньги используются для обмена товарами и услугами
---	--------------------	---	--

2	Мера стоимости	Б	деньги выражают стоимость товаров
3	Средство платежа	В	деньги используются для выплат без прямого обмена на товары
4	Средство накопления	Г	деньги сберегаются для будущих покупок товаров и услуг

Запишите ответ:

1	2	3	4

21. Установите соответствие между видами инфляции и уровнем роста цен

1	Умеренная инфляция	А	рост цен до 10% в год
2	Галопирующая инфляция	Б	рост цен от 20 до 200% в год
3	Гиперинфляция	В	рост цен более 500% в год

Запишите ответ:

1	2	3

22. Установите соответствие между факторами производства и видами доходов:

1	Труд	А	Рента
2	Земля	Б	Прибыль
3	Капитал	В	Заработная плата
4	Предпринимательство	Г	Процент

Запишите ответ:

1	2	3	4

23. Установите соответствие между измерителями и единицами измерения:

1	Стоимостные	А	Голов скота
2	Трудовые	Б	Условная тонна

3	Натуральные	В	Чел/час
4	Условно-натуральные	Г	Тыс. рублей

Запишите ответ:

1	2	3	4

24. Установите соответствие между товарами и эластичностью спроса на них.

1	Помидоры зимой	А	эластичный спрос
2	Хлеб, соль	Б	неэластичный спрос
3	Одежда, обувь	В	спрос с единичной эластичностью

Запишите ответ:

1	2	3

25. Установите соответствие между имуществом и правом собственности:

1	Изобретение	А	Государственная
2	Золотой запас	Б	Муниципальная
3	Средства местного бюджета	В	Частная
4	Автомобиль	Г	Интеллектуальная

Запишите ответ:

1	2	3	4

26. Установить соответствие:

1	Договор	А	Семейное право
2	Усыновление	Б	Трудовое право
3	Выговор	В	Конституционное право
4	Право на труд	Г	Гражданское право

Запишите ответ:

1	2	3	4

27. Установите соответствие между конкретными ситуациями и типом правоотношений, который они иллюстрируют:

1	Семейное	А	Владение, пользование и распоряжение общим имуществом супругов осуществляется по обоюдному согласию супругов
2	Административное	Б	Работник без уважительной причины не вышел на работу
3	Трудовое	В	Договор купли-продажи недвижимости требует регистрации
4	Гражданское	Г	Гражданин нарушил правила дорожного движения

Запишите ответ:

1	2	3	4

28. Установите соответствие между видами рынков по пространственному признаку:

1	Местный рынок	А	села, города
2	Национальный рынок	Б	страны
3	Региональный рынок	В	край, область
4	Международный рынок	Г	европейское содружество

Запишите ответ:

1	2	3	4

1. Установите последовательность (в порядке значимости) четырех основных источников доходов государственного бюджета России:

- 1: налоговые доходы
- 2: неналоговые доходы
- 3: внебюджетные фонды
- 4: единый социальный налог

2. Установите последовательность получения располагаемого дохода из валового внутреннего продукта:

- 1: валовой внутренний продукт
- 2: чистый внутренний продукт
- 3: национальный доход
- 4: личный доход

3. Укажите последовательность основных этапов возникновения денег

- 1: зарождение товарного производства
- 2: увеличение количества обменных операций
- 3: выделение товаров-посредников
- 4: использование в качестве товарных эквивалентов серебра и золота

4. Укажите последовательность формирования и развития экономической мысли:

- 1: использование метода "проб и ошибок"
- 2: развитие обыденного хозяйственного мышления
- 3: определение правил рационального поведения
- 4: возникновение подлинно научной экономической теории

5. Установите порядок заключения трудового договора:

- а. Наступление испытательного срока
- б. Подача письменного заявления работником
- в. Знакомство работника с условиями труда и оплаты
- г. Предъявление соискателем необходимых документов, конкурс документов претендентов
- д. Приказ работодателя о приеме на работу
- е. Подписание трудового договора

6. Расположите источники трудового права по юридической силе:

- а. Трудовой кодекс РФ
- б. Указ Президента РФ
- в. Конституция РФ
- г. Закон субъекта РФ

7. Установите правильную последовательность расчёта розничной цены продукции:

- а. Прибыль предприятия
- б. Себестоимость продукции
- в. Наценка посредника
- г. НДС
- д. Наценка продавца

8. Установить правильную последовательность расширения дееспособности гражданина РФ:

- а. Быть принятым на работу
- б. Совершать мелкие бытовые сделки
- в. Вступать в брак
- г. Избираться в Государственную Думу

9. Расположите потребности по мере их возрастания согласно классификации человеческих потребностей по А. Маслоу:

- 1: физиологические потребности
- 2: потребность в безопасности
- 3: потребность в социальных контактах
- 4: потребность в уважении

10. Установите последовательность формирования следующих видов цен:

1. отпускная цена предприятия;
2. оптовая цена предприятия;
3. розничная цена товара;
4. оптовая цена промышленности;

11. Установите последовательность этапов регистрации юридического лица:

- а. Представление документов на регистрацию в ИФНС
- б. Заключение между учредителями договора об учреждении общества
- в. Принятие участниками решения об открытии фирмы
- г. Открытие расчетного счета фирмы

12. Установите порядок приема сотрудника на работу:

- а. Подготовка приказа о приеме на работу
- б. Ознакомление нового сотрудника с внутренними документами организации под роспись
- в. Проверка предоставленных соискателем документов
- г. Согласование и подписание трудового договора
- д. Внесение сведений в трудовую книжку

13. Выберите правильную последовательность действий работодателя и работника при установлении факта дисциплинарного проступка в соответствии с Трудовым кодексом РФ в действующей редакции:

- а. Ознакомление с приказом
- б. Установление факта дисциплинарного проступка
- в. Издание приказа
- г. Истребование объяснения от работника

15. Укажите правильный порядок образования чистой прибыли в организации:

- а. Прибыль до налогообложения
- б. Прибыль от продажи
- в. Чистая прибыль
- г. Налог на прибыль

16. Расставьте формы оборотных средств по стадиям кругооборота оборотных средств на предприятии:

- а. Готовая продукция,
- б. Производственные запасы,
- в. Денежные средства на закупку,
- г. Производство.

Оборудование, материалы, инструменты

1. Установите соответствие между названием материала и его описанием:

1.	Уголь	А	Водяные краски с растительным клеем в качестве связующего вещества
----	-------	---	--

2.	Сангина	Б	Материал, изготавливаемый из равномерно обожжённых тонких веток
3.	Темпера	В	Материал для рисования, представляющий собой палочки без оправы различных красно-коричневых тонов
4.	Акварель	Г	водоразбавляемые краски, приготовляемые на основе сухих порошковых пигментов. Связующим веществом этих красок служат эмульсии — натуральные (разбавленный водой желток куриного яйца или цельное яйцо) или искусственные (высыхающие масла в водном растворе клея, полимеры)

Ответ: 1.....; 2.....; 3.....; 4.....

2. Выберите правильный вариант ответа:

В каком из видов изобразительного искусства создают вещи, используя вторсырье и природные материалы:

- А) живопись
- Б) скульптура
- В) декоративно-прикладное искусство
- Г) архитектура

3. Вставьте пропущенное слово:

..... - это конопляная или льняная ткань с полотняным переплетением пряжи предназначенная, как основа для живописи.

4. Укажите правильную последовательность действий при выполнении проекта в материале:

1. Выполнение основной работы
2. Технический расчет (масштаб)
3. Подбор оборудования и инструментов
4. Предварительные поисковые работы
5. Расчет материалов

Ответ:

История искусств

1 вариант

1. Выберите один вариант правильного ответа:

В классический древнегреческий список «семи чудес света» входят:

- А) Статуя Зевса Олимпийского, Мавзолей в Галикарнасе, статуя Венеры Милосской;
- Б) Пирамиды в Гизе, Колизей, Храм Артемиды Эфесской;
- В) Колосс Родосский, Висячие сады Семирамиды, Фаросский маяк.

2. Установите последовательность произведений скульптуры по времени возникновения:

- А) Фонтан четырех рек;
- Б) Капитолийская волчица;
- В) Раненая львица;
- Г) Самсон, разрывающий пасть льву.

Ответ:

3. Установите соответствие между произведением искусства графики и его автором:

Произведение:

- А) «Меланхолия»
- Б) «Сотворение света»

В) «Сон разума рождает чудовищ»

Г) «Фауст»

Автор:

1) Доре Г.;

2) Гойя Ф.;

3) Рембрандт;

4) Дюрер А.

Ответ: А).....;Б).....;В).....;Г).....

4. *Впишите в бланк ответа название картины:*

Диего Веласкес был придворным художником испанского короля Филиппа IV, его лучшими работами признаны портреты самого короля, его семьи, фрейлин, шутов и пр. Сложная и загадочная многоплановая композиция знаменитой картины «.....» поднимает вопросы иллюзии и реальности, неопределенности связи персонажей со зрителем, тему главного героя произведения. На картине многочисленные персонажи, некоторые из которых отражены лишь в зеркале, представлены в разнообразных позах и, хотя в центре находится 5-летняя девочка, внимание зрителя постоянно ускользает от неё, переключаясь на других героев. Да и название произведения указывает на некий иной смысл, заложенный художником.

5. *Установите последовательность произведений архитектуры по времени возникновения:*

А) Церковь Саграда Фамилия;

Б) дворец и сады Версаля;

В) ансамбль Петергофа;

Г) Церковь Покрова Богородицы на Рву на Красной площади в Москве.

Ответ:

6. *Установите соответствие между произведением и автором:*

Произведение:

А) «Мадонна Конестабиле»;

Б) «Мадонна Литта»;

В) «Мадонна с гранатом»;

Г) «Мадонна Дони».

Автор:

1) Микеланджело Буонарроти;

2) Рафаэль Санти;

3) Леонардо да Винчи;

4) Сандро Боттичелли.

Ответ: А).....;Б).....;В).....;Г).....

7. *Выберите один вариант неправильного ответа:*

Для живописи рококо характерно следующее:

А) изящный и утонченный рисунок, экзотические названия цветов (напр. «цвет потерянного времени»);

Б) изображение мира сложных любовных интриг и хитроумных аллегорий;

В) темы «галантных празднеств», идиллические картины «пастушеской» жизни на фоне первозданной природы;

Г) работы в форме наброска, создание работ на пленэре.

8. *Впишите в бланк ответа название авангардного направления живописи XX века:*

Направление сложилось в результате экспериментальных поисков в области формы. Одно изображение могло накладываться на другое, так что у зрителя появлялась возможность увидеть один предмет сквозь другой. Часто делались попытки показать предметы одновременно с раз-

ных точек зрения: сверху, снизу, сбоку. Плоскости дробились на составляющие формы, превращаясь порой в причудливые мозаичные узоры. Из отдельных граней, деталей складывался особый образ, порождающий множество вариантов его «прочтения» зрителями.

9. Выберите один вариант правильного ответа:

Русский модерн, воплотившийся в Доме Перцова, гостинице Метрополь и др., имеет характерные национальные черты:

- А) Использование витражей в интерьере особняков, строго симметричные формы;
- Б) Ассиметричная композиция, построенная на изогнутых формах, сохраняющая натуральный цвет используемых материалов;
- В) Активное использование цвета в архитектуре, включение в композицию фасадов мозаичных, изразцовых и майоликовых панно.

10. Впишите в бланк ответа французского скульптора XIX века:

В скульптурах получили воплощение яркие эмоциональные состояния, внезапные порывы души. Мучительные раздумья одного человека о смысле бытия сменяются героической решимостью шестерых жителей пожертвовать собой. Тема любви и поцелуя переходит в сон на грани формы и бесформенного, рождающего впечатление стихийного рождения формы. Грандиозный образ человеческого духа и страдания «Врат Ада» так и остается незавершенным, хотя отдельные фигуры стали самостоятельными произведениями. Более поздние работы автора имеют незаконченный вид из-за текучести и живописной неровности поверхности.

2 вариант

1. Выберите один вариант правильного ответа:

Пещера, открывшая миру первобытную культуру, была обнаружена в 1879 году археологом-любителем Марселино де Саутуола и называлась:

- А) Каповая пещера;
- Б) пещера Ласко;
- В) пещера Альтамира.

2. Установите последовательность произведений скульптуры по времени возникновения:

- А) Раненая львица;
- Б) Бюст Нефертити;
- В) Палетка Нармера;
- Г) Статуи храма Рамзеса II в Абу-Симбеле.

Ответ:

3. Установите соответствие между произведением архитектуры и страной, а также напишите, в чем состоит принципиальное сходство данных сооружений:

Произведение:

- А) Ступа;
- Б) Зиккурат;
- В) Капище;
- Г) Пагода.

Страна:

- 1) Китай;
- 2) Россия;
- 3) Индия;
- 4) Вавилон.

Ответ: А).....;Б).....;В).....;Г).....

Сходство:

4. Впишите в бланк ответа название эпохи:

Основной темой в скульптуре эпохи было изображение богов и героев. Любимыми материалами скульпторов были мрамор и бронза. Пластическое совершенство одних статуй, олицетворявших собой идеального человека, и портретный психологизм других, выявлявших индивидуальный характер, составляют вместе эпоху расцвета скульптурного искусства.

5. Установите последовательность произведений иконописи по времени возникновения:

- А) икона Владимирской Богоматери;
- Б) икона новомучеников, «царственных страстотерпцев»;
- В) икона «Троица» Рублева;
- Г) парсуна царя Федора Алексеевича.

Ответ:

6. Установите соответствие между произведением и автором:

Произведение:

- А) «Сон Рыцаря»;
- Б) «Сотворение Адама»;
- В) «Весна»;
- Г) «Мадонна в скалах».

Автор:

- 1) Микеланджело Буонарроти;
- 2) Рафаэль Санти;
- 3) Леонардо да Винчи;
- 4) Сандро Боттичелли.

Ответ: А).....;Б).....;В).....;Г).....

7. Впишите в бланк ответа название общеевропейского стиля в искусстве XVII века:

Искусство раскрывает сущность жизни в движении и борьбе изменчивых стихийных сил. Для произведений этого стиля характерен пафос возвышенного, стремление поразить зрителя, экспрессия форм, избыточность и богатство декора, иллюзорность мира, создаваемая обилием зеркал, парадность и торжественность. Наиболее крупными представителями были: в живописи - П. Рубенс, в скульптуре - Л. Бернини, в архитектуре - Ф. Борромини и Ф. Растрелли.

8. Выберите один вариант правильного ответа:

Знаменитыми французскими скульпторами конца XIX - первой половины XX века являются:

- А) Э. Бурдель, А. Майоль;
- Б) О. Роден, Г. Климт;
- В) Г. Мур, В. Мухина.

9. Выберите один вариант правильного ответа:

Для живописи абстракционизма характерно следующее:

- А) Сюжеты фрагментарные, похожие на «кадры», выхваченные из жизни;
- Б) Цвет предметов, передающий эмоцию, а не действительность;
- В) Отказ от изображения форм реальной действительности.

10. Впишите в бланк ответа русского художника «рубежа веков»:

Художник любил изображать патриархальную Русь, её праздники, нравы и обычаи купечества («Провинция», «Троицын день», «Масленница»). Также он был великолепным портретистом, широкое общественное признание получил, например, его «Портрет Ф. Шаляпина» (1922 г.). Блестящее воплощение получила тема красоты русских женщин на его полотнах («Красавица», «Русская Венера»). Писал художник и царя Николая II.

3 вариант

1. Выберите один вариант правильного ответа:

Самые знаменитые храмы Египта называются:

- А) Пирамиды в Гизе;
- Б) Луксорский и Карнакский;
- В) Ка, Ба и Рен.

2. Установите последовательность произведений скульптуры по времени возникновения:

- А) «Лаокоон и его сыновья»;
- Б) «Дискобол»;
- В) «Курор»;
- Г) «Менада» («Вакханка»).

Ответ:

3. Установите соответствие между произведением архитектуры и городом, где оно находится:

Произведение:

- А) Парфенон;
- Б) Собор Святого Петра;
- В) Санта-Мария-дель-Фьоре;
- Г) Нотр-Дам-де-Пари.

Страна:

- 1) Флоренция;
- 2) Париж;
- 3) Рим;
- 4) Афины.

Ответ: А).....;Б).....;В).....;Г).....

4. Впишите в бланк ответа три слова: два пропущенных в тексте понятия, относящиеся к подвиду монументальной живописи, и одно имя великого ученого:

Первый раз это искусство появилось еще в Междуречье: глиняные двуцветные гвозди вбивались в земляные колонны и складывались в особые узоры. Затем отдельные произведения этого подвида искусства можно найти в домах римских патрициев. Но особо сильное развитие искусство получило в Византии. Сияющие стены храмов производили неизгладимое впечатление на тех, кто входил в храм. В основе данного искусства лежал секрет изготовления кусочков Небьющееся цветное стекло, спаянное с золотом, выкладывалось под разными углами, чтобы отражать лучи солнца. Мастера передавали этот секрет из рук в руки, охраняя его тайны от чужаков. После падения Византии секрет был потерян и возрожден заново в XVIII веке великим русским ученым

5. Установите последовательность произведений графики по времени возникновения:

- А) «Четыре всадника Апокалипсиса»;
- Б) офорты серии «Капричос»;
- В) «Балерина» (набросок);
- Г) «Автопортрет Леонардо да Винчи».

Ответ:

6. Установите соответствие между произведением и автором:

Произведение:

- А) «Союз Земли и Воды»;
- Б) «Продавщица фруктов»;
- В) «Автопортрет с Саскией на коленях»;

Г) «Танец под музыку Времени».

Автор:

- 1) Х. Рембрандт;
- 2) П. Рубенс;
- 3) Н. Пуссен;
- 4) Э. Мурильо.

Ответ: А).....;Б).....;В).....;Г).....

7. *Впишите в бланк ответа название культурной эпохи, охватывающей почти весь XVIII век:*

Искусство эпохи оказало сильное влияние на формирование нового светского искусства. Культ Разума и знаний привел к возникновению воспитательного искусства, цель которого - преобразовывать человека, формировать личность на идеалах разума, свободы, равенства. Во Франции это движение связано с именами Вольтера, Дидро, Бомарше, Шардена. В Англии - с именами Дефо, Свифта, Хогарта. В России - с именами литераторов-сатириков Н. Новикова, А. Радищева и художниками, создающими идеал образа «новых» людей - А. Антропов, И. Аргунов, Ф. Рокотов, Д. Левицкий.

8. *Выберите один вариант правильного ответа:*

Знаменитыми художниками-передвижниками в искусстве XIX века являются:

- А) О. Домье, Ф. Милле, Г. Курбе;
- Б) В. Васнецов, В. Врубель, В. Борисов-Мусатов, А. Бенуа;
- В) И. Репин, В. Суриков, В. Перов, И. Крамской.

9. *Выберите один вариант правильного ответа:*

Наиболее яркое воплощение в России стиля ампир нашло отражение в:

- А) Здании Главного штаба с аркой, выходящей на Дворцовую площадь в Петербурге, Карла Росси;
- Б) Здании Ярославского вокзала Федора Шехтеля в Москве;
- В) Здании Петропавловского собора в Петербурге Доменико Трезини.

10. *Впишите в бланк ответа бельгийского художника - сюрреалиста XX века:*

Художник известен как автор остроумных и вместе с тем поэтически загадочных картин, расшифровать которые подчас совсем нелегко («Сын человеческий», «Память», «Голконда», «Фальшивое зеркало», «Влюбленные»). Художник является одним из столпов сюрреализма. Он часто говорил об обманчивости видимого, о его скрытой таинственности, которую мы обычно не замечаем, как, например, в его популярной картине «Вероломство образов» («Это не трубка...»). Даже фасад его музея в Брюсселе оформлен в сюрреалистической манере с использованием фрагмента картины «Империя света».

4 вариант

1. *Выберите один вариант правильного ответа:*

Статуя танцующего Шивы-Натараджа в круге небесного огня относится к религии:

- А) синтоизм;
- Б) индуизм;
- В) буддизм;
- Г) христианство;
- Д) ислам.

2. *Установите последовательность архитектурных сооружений по времени возникновения:*

- А) Московский Кремль;
- Б) Эйфелева башня;

- В) Кельнский собор;
 - Г) Великая китайская стена;
 - Д) Сиднейский оперный театр.
- Ответ:

3. Установите соответствие между произведением графики и автором:

Произведение:

- А) «Витрувианский человек»;
- Б) «Носорог»;
- В) «Фауст»;
- Г) «Танцовщица» (этюд).

Автор:

- 1) Альбрехт Дюрер;
- 2) Харменс ван Рейн Рембрандт;
- 3) Эдгар Дега;
- 4) Леонардо да Винчи.

Ответ: А).....;Б).....;В).....;Г).....

4. Впишите в бланк ответа имя великого скульптора и архитектора «золотого века Античности»: Хотя большинство работ этого автора не сохранились, считается одним из лучших представителей классического стиля, основоположником европейского искусства. Он и его школа скульптуры занимали ведущее место в искусстве древнегреческой высокой классики. Друг правителя Афин Перикла, главный советник в реставрации Акрополя, создатель статуй Афина Промехос и Афина Парфенос, а также - одного из семи чудес света. Золотое сечение получило в алгебре обозначение греческой буквой ϕ именно в честь этого мастера, воплотившего его в своих работах.

5. Установите последовательность произведений по времени возникновения:

- А) Венера Милосская;
- Б) «Венера перед зеркалом» Рубенса;
- В) «Спящая Венера» Джорджоне;
- Г) «Рождение Венеры».

Ответ:

6. Установите соответствие между произведением и автором:

Произведение:

- А) «Красные крыши»;
- Б) «Охотники на снегу»;
- В) «Ночной дозор»;
- Г) «Завтрак на траве».

Автор:

- 1) П. Брейгель;
- 2) К. Писсарро;
- 3) Э. Мане;
- 4) Х. Рембрандт.

Ответ: А).....;Б).....;В).....;Г).....

7. Выберите один вариант правильного ответа:

Титанами эпохи Возрождения являются:

- А) Леонардо да Винчи, Рафаэль, Микеланджело;
- Б) Тициан, Тинторетто,;
- В) Джотто, Мазаччо, Беллини.

8. Впишите в бланк ответа название направления в искусстве второй половины XIX века и назовите имена хотя бы 3 художников этого направления:

..... совершил художественную революцию, оказав большое влияние на все последующее искусство. Художники вышли писать картины на пленэр. Они стремились отобразить миг реальной жизни, бурлящей вокруг. Основное внимание уделялось игре цветовых оттенков, а не четкой прорисовке фигур и деталей. Для художников были важны передача ускользающих мгновений, впечатления от одного и того же объекта при разном освещении, погоде, времени года. Композиции часто построены фрагментарно, изображения перерезаны краями полотна, фигуры - в сложных ракурсах. Представителями направления являются:

9. Выберите один вариант неправильного ответа:

Особенности творческого наследия русского художественного объединения рубежа веков «Мир искусства»:

- А) Основной целью живописи признавалось создание красоты, а источником вдохновения - не окружающая действительность, а само искусство как сфера прекрасного;
- Б) Окружающая действительность подвергалась сатирическому высмеиванию в карикатурах и шаржах;
- В) Интерес к эпохам господства одного стиля в искусстве и прежде всего - к рококо и XVIII веку в целом;
- Г) Представителями «мирискусников» были: Л. Бакст, А. Бенуа, К. Сомов, И. Билибин, К. Коровин, С. Малютин.

10. Впишите в бланк ответа французского архитектора XX века:

Пионер архитектурного модернизма и функционализма, представитель архитектуры интернационального стиля, художник и дизайнер, настоящее имя которого Шарль-Эдуард Жаннере-Гри, внес значительный вклад в архитектуру XX века, открыв глаза другим архитекторам на свободные формы. Универсальность его творчества в том, что он развивал новые градостроительные концепции, общая суть которых в том, чтобы посредством новых планировочных методов повысить комфорт проживания в городах, создать в них зелёные зоны (концепция «зелёного города»), современную сеть транспортных магистралей — и всё это при значительном увеличении высоты зданий и плотности населения. Пять принципов (свободный план этажа, свободный фасад с ленточным остеклением, сад на крыше и др.) его личной архитектурной программы, стали привычными приемами современного строительства.

5 вариант

1. Выберите один вариант правильного ответа:

Золотой павильон, замок Химэдзи, сад Рёандзи, гравюра укиё-э - относятся к культуре:

- А) Японии;
- Б) Индии;
- В) Китая;
- Г) Византии;
- Д) Ирана.

2. Установите последовательность архитектурных сооружений по времени возникновения:

- А) Собор Святой Софии в Константинополе;
- Б) Архангельский собор Московского Кремля;
- В) Дмитриевский собор во Владимире;
- Г) Собор Святой Софии в Киеве;
- Д) Собор Христа Спасителя в Москве.

Ответ:

3. Установите соответствие между произведением скульптуры и автором:

Произведение:

- А) «Дорифор»;
- Б) «Конная статуя кондотьера Гаттамелаты»;
- В) «Аполлон Бельведерский»;
- Г) «Давид».

Автор:

- 1) Леохар;
- 2) Донателло;
- 3) Микеланджело;
- 4) Поликлет.

Ответ: А).....;Б).....;В).....;Г).....

4. Впишите в бланк ответа название архитектурного сооружения Италии и город, в котором оно построено:

Одним из шедевров римского зодчества является в, главной достопримечательностью которого считается грандиозное купольное перекрытие более 43 метров в диаметре, не имеющее аналогов в предыдущей архитектуре. В этом здании никогда не приносились жертвы, главное его назначение – концентрация всех духовных сил и помыслов человека, идея Вечности и единства мира. Соответствует идее Вечности и сегодняшнее назначение данного сооружения. Удивительна соразмерность здания: диаметр равен высоте, в центре купола находится окно диаметром 9 м. Прекрасный мрамор, коринфские колонны, кессоны украшают интерьер, а портик с колоннами коринфского ордера обрамляет вход в здание.

5. Установите последовательность произведений графики по времени возникновения:

- А) Офорты серии «Капричос»;
- Б) «Повесть о полку Игореве» В. Фаворского;
- В) «Меланхолия»;
- Г) «Эскиз летательного аппарата».

Ответ:

6. Установите соответствие между произведением и автором:

Произведение:

- А) «Медный всадник»;
- Б) «Звездная ночь»;
- В) «Демон поверженный»;
- Г) «Водоём».

Автор:

- 1) В. Ван Гог;
- 2) М. Врубель;
- 3) Борисов-Мусатов;
- 4) А. Бенуа.

Ответ: А).....;Б).....;В).....;Г).....

7. Выберите один вариант правильного ответа:

Представителями Северного Возрождения являются:

- А) Леонардо да Винчи, Рафаэль, Микеланджело;
- Б) Тициан, Тинторетто, Веронезе;
- В) Джотто, Мазаччо, Беллини;

- Г) Ян ван Эйк, П. Брейгель, А. Дюрер;
 Д) Х. Рембрандт, П. де Хох, Ян Вермеер Делфтский.

8. *Впишите в бланк ответа имя художника первой половины XX века и назовите направление в искусстве, одним из родоначальников которого он является:*

Понять смысл картин очень непросто. Он обладал виртуозной и безупречной техникой академического рисунка, в его картинах немало реминисценций на темы произведений Веласкеса, Вермера, Милле. Предложив собственный «параноико-критический» метод в живописи, основанный на мире причудливых воспоминаний, кошмарных сновидений, эротических желаний и волшебных фантазмагорий, он стал лидером направления Даже названия его картин дразнят и провоцируют зрителя: «Постоянство памяти», «Сон, вызванный полетом пчелы вокруг граната за секунду до пробуждения», «Горящая жирафа» и пр.

9. *Выберите один вариант правильного ответа:*

Натюрморты типа «Vanitas» - это:


- А) Натюрморты с букетами цветов;
 Б) Натюрморты с дичью (убитыми на охоте птицами или животными);
 В) Натюрморты с черепами, свечами, музыкальными инструментами, напоминающие человеку о бренности его существования;
 Г) Натюрморты с фруктами.


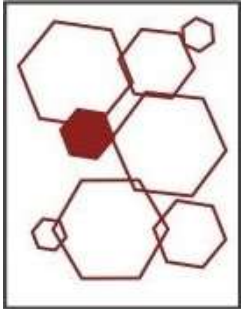
10. *Впишите в бланк ответа название картины и имя французского художника XX века:*

Художник, одна из картин которого стала своеобразной метафорой всего авангардного искусства XX века, прошел несколько этапов творческого формирования: голубой период, розовый период, аналитический и синтетический кубизм. Его привлекало творчество примитивных народов своим стихийным, варварским началом, экспрессией, геометрической простотой и пластичностью. Ещё при жизни был окружен легендами и спорами, он был прекрасным живописцем, скульптором, графиком, керамистом. Одна из картин 1937 года «.....» стала живописным памятником испанскому городу, уничтоженному фашистами. Свой гражданский гнев художник вынес на полотно размером 3х8 м, картина нарисована в черно-белых тонах и формате триптиха. Позже, в оккупированном Париже 1940 года фашисты спросили мастера о картине: «Это вы сделали?» – он покачал головой и ответил: «Нет, это сделали вы!»

Основы композиции в профессиональной деятельности

1	<p>Вставьте пропущенное слово.</p> <p>Большая или меньшая периодическая повторяемость какого-либо элемента называется _____</p>	
2	<p>Выберите один вариант правильного ответа.</p> <p>Назовите выразительные средства, элементы композиции на плоскости</p>	<p>1. Точка, линия, пятно, цвет, фактура</p> <p>2. Цвет, колорит</p> <p>3. Характер поверхности,</p>

		фактура, цветовая гамма 4.Ритм, контраст, ассиметрия, точка.
3	Выберите правильный ответ. Что такое монохромная композиция?	1.Это композиция использующая сочетания серо-черных оттенков 2.Это композиция использующая сочетания родственных цветов 3.Это композиция использующая сочетания оттенков одного цвета 4.Это композиция использующая сочетания контрастных цветов
4	Вставьте пропущенное слово. Если в форме начинает преобладать одно из измерений, дающее зрительное движение в направлении этого измерения, то эта форма называется _____	
5	Установите соответствие между картинками левого столбца и словами правого столбца, ответив на вопрос Какой принцип группирования элементов применен в данной картинке?	1 – 2 - 3 –
	<div style="display: flex; align-items: center;"> <div style="border: 1px solid black; padding: 5px; margin-right: 10px;"> <p>1.</p>  </div> <div style="border: 1px solid black; padding: 5px;"> <p>А. Принцип доминанты</p> </div> </div>	

	<p>2.</p> 	<p>В. Подобие по размеру</p>						
	<p>3.</p> 	<p>С. Подобие по форме</p>						
<p>6</p>	<p>Установите соответствие между вопросами левого столбца и ответами правого столбца.</p> <table border="1" data-bbox="188 1137 900 1809"> <tr> <td data-bbox="188 1137 555 1402"> <p>А. Какой тип композиции представляет собой детский игровой комплекс?</p> </td> <td data-bbox="555 1137 900 1402"> <p>1. Фронтальный</p> </td> </tr> <tr> <td data-bbox="188 1402 555 1626"> <p>В. Какой тип композиции представляет плакат?</p> </td> <td data-bbox="555 1402 900 1626"> <p>2. Объёмный</p> </td> </tr> <tr> <td data-bbox="188 1626 555 1809"> <p>С. Какой тип композиции представляет скульптура?</p> </td> <td data-bbox="555 1626 900 1809"> <p>3. Глубинно-пространственный</p> </td> </tr> </table>	<p>А. Какой тип композиции представляет собой детский игровой комплекс?</p>	<p>1. Фронтальный</p>	<p>В. Какой тип композиции представляет плакат?</p>	<p>2. Объёмный</p>	<p>С. Какой тип композиции представляет скульптура?</p>	<p>3. Глубинно-пространственный</p>	<p>А –</p> <p>В –</p> <p>С -</p>
<p>А. Какой тип композиции представляет собой детский игровой комплекс?</p>	<p>1. Фронтальный</p>							
<p>В. Какой тип композиции представляет плакат?</p>	<p>2. Объёмный</p>							
<p>С. Какой тип композиции представляет скульптура?</p>	<p>3. Глубинно-пространственный</p>							
<p>7</p>	<p>Выберите правильный ответ.</p> <p>Универсальный принцип гармонии и красоты в</p>	<p>1.Золотое сечение</p> <p>2.Канон</p>						

	композиции, это...	3.Лепка формы 4.Тон
8	Продолжите предложение. Набросок – это...	
9	Выберите правильный ответ. Перспектива – это...	1.Изображение пространства 2.Учение о способах передачи пространства на плоскости изображения 3.Линия положения глаза человека, наблюдающего всё видимое из определенного места
10	Выберите правильный ответ. Какой цвет называется локальным?	1.Цвет, который невозможно получить от смешения 2.Цвет самого предмета - максимально освобожденный от воздействия окружающих его предметов, рефлексов, специального освещения и т. д. 3.Общий цвет картины
11	Выберите правильный ответ. Триада основных цветов спектра	1.Красный, желтый, зеленый 2.Красный, синий, зеленый 3.Зеленый, оранжевый, фиолетовый 4.Красный, синий, желтый
12	Установите соответствие между левым и пра-	1 -

	<p>вым столбцом, ответив на вопрос.</p> <p>Какой цвет является дополнительным для красного?</p> <table border="1" data-bbox="188 477 898 689"> <tr> <td data-bbox="188 477 544 544">1. </td> <td data-bbox="544 477 898 544">А. </td> </tr> <tr> <td data-bbox="188 544 544 611">2. </td> <td data-bbox="544 544 898 611">Б. </td> </tr> <tr> <td data-bbox="188 611 544 689">3. </td> <td data-bbox="544 611 898 689">В. </td> </tr> </table>	1. 	А. 	2. 	Б. 	3. 	В. 	<p>2 -</p> <p>3 -</p>
1. 	А. 							
2. 	Б. 							
3. 	В. 							
13	<p>Установите последовательность ведения работы над живописным изображением портрета.</p> <ol style="list-style-type: none"> 1. Перспектива и анатомическое построение 2. Передача освещенности, объема и среды 3. Проработка деталей и обобщение 4. Колористическое решение 5. Композиционное решение 	<ol style="list-style-type: none"> 1. 2. 3. 4. 5. 						
14	<p>Выберите правильный ответ.</p> <p>Какая цветовая композиция строится на различных соотношениях одного цвета</p>	<ol style="list-style-type: none"> 1.Монохромная 2.Нюансная 3.Контрастная 4.Ахроматическая 						
15	<p>Выберите правильный ответ.</p> <p>Назовите основные характеристики цвета</p>	<ol style="list-style-type: none"> 1.Колорит, контрастность 2.Теплота и холодность 3.Цветовой тон, светлота, насыщенность 						
16	<p>Вставьте пропущенное слово.</p> <p>_____ резкое различие формы, размеров, пластики, цвета, фактур</p>							
17	<p>Вставьте пропущенное слово.</p> <p>_____ - подготовительный набросок к произведению, отражающий поиски наилучшего воплощения творческого замысла.</p>							

18	<p>Продолжите предложение.</p> <p>Цветные композиции, независимо от присутствия одного или нескольких цветов, относятся к.....</p>	
19	<p>Вставьте пропущенное слово.</p> <p>_____ - работа на открытом воздухе в естественных условиях, а не в стенах мастерской.</p>	
20	<p>Выберите правильный ответ.</p> <p>В какие цвета следует окрасить помещение, чтобы атмосфера в нем казалась более теплой, чем на самом деле?</p>	<p>1. Зеленые и голубые</p> <p>2. Серые и белые</p> <p>3. Желтые и оранжевые</p>

Задание 2. Перевод профессионального текста (сообщения)
(максимальная оценка – 10 баллов).

ТЕКСТ (1560 знаков)

Английская версия текста

Задача 1. Переведите приведённый ниже текст.

Задача 2. Найдите в тексте и выпишите ответы на вопросы

Модуль 2: Профессиональное задание

Этап 1.

Перевод текста профессиональной направленности и выполнение практического задания (ответы на вопросы на понимание прочитанного)

Задача 1: выполнить письменный перевод текста.

Green Design

Green design specification describes selection of materials that produce a sustainable environment—the materials have come from a renewable source and removing them will not harm the earth’s environment. Green products will also have been green-manufactured with no adverse effect on the environment, and can usually be recycled or reused. These kinds of products are free from harmful toxins, are made of renewable resources, and have not created environmentally harmful by-products in the manufacturing process.

Green design products are environmentally friendly because they do little or no harm to the environment or because they are made of postconsumer recycled materials. Wood used in such products comes from a certified forest management program. Most manufacturing requires the use of water, but responsible manufacturers that use large quantities of water, clean and reuse it rather than depleting fresh water sources.

Some problems of green specification are complex. For example, some regard the use of exotic woods—taken from endangered tropical forests—as unethical because it is felt that use of such woods depletes the forests. It is widely acknowledged that the tropical rain forests of the world are disappearing at an alarming rate and this may be affecting weather patterns and air quality throughout

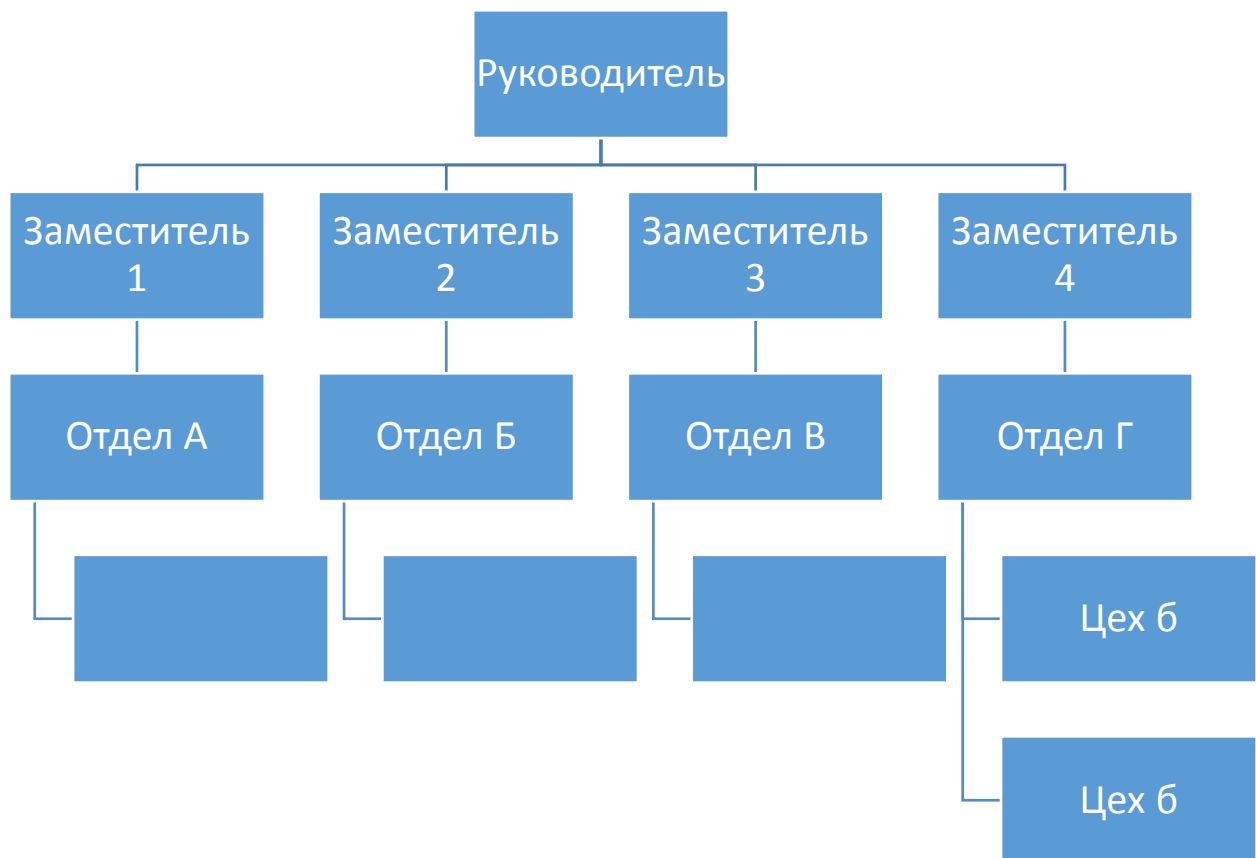
the world. Those responsible for the deforestation are often poor farmers who slash and burn the forest to plant their meager crops. The denuded soil is quickly depleted, and the slashing moves deeper into the forest. Some experts feel that if the emphasis could be changed from farming to the selective harvesting of exotic wood and the creation of sustained-growth forests, farmers would better be able to sustain life, slash-and-burn farming would become obsolete, and the forests would be preserved.

Задача 2: Ответить на вопросы в письменном виде

- 1) What is the specificity of Green Design?
- 2) Why Green Design products are called environmentally friendly?
- 3) What resource do most productions require?
- 4) What is the reason for the deforestation of tropical forests what is the harm from this and how to solve this problem?
- 5) Name practical advice from this article?

Задание 3. Организация работы коллектива (максимальная оценка 10 баллов)

Организационная структура компании



Задания II уровня

1 задание: Линейно-конструктивное построение натюрморта на формате А-3

2 задание: Выполнение декоративной переработки натюрморта на формате А-3